

7. Όνομα: _____


Πάντα θα θυμάστε αυτό που σας έλεγα:
"Μην τρώτε τους τόνους γιατί θα σας φάω..."
Ο τόνος μπαίνει πάντα σ' εκείνη τη συλλαβή
που φωνάζει δυνατά. Χρειάζεται μεγάλη προσοχή!
Αν αλλάξουμε έναν τόνο, όλα αλλάζουν...


- Άλλαξε τον τόνο και το φυτό θα κάνει... καρπούς.

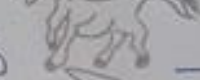
λεμονιά → λεμόνια
πορτοκαλιά → _____
μανταρινιά → _____
καρυδιά → _____
κερασιά → _____
αχλαδιά → _____
φουντουκιά → _____
φυστικιά → _____
χαρουπιά → _____
βελανιδιά → _____
κολοκυθιά → _____
κουκουναριά → _____
φραδολιά → _____
κυδωνιά → _____
πέπωνια → _____
καρπούζια → _____





- Και τώρα τα ζώα θα σε βοηθήσουν στους τόνους. Συμπλήρωσε στη γραμμούλα το όνομα του ζώου. Προσοχή! Βάλτε σωστά τον τόνο! Μετά διάβασε ένα χαρακτηριστικό αυτού του ζώου.


Το  _____ είναι πολύ γλυκό!


Το  _____ είναι πολύ χαριτωμένο!

Το  _____ είναι υπερήφανο ζώο.

Ο  _____ τρέχει πολύ γρήγορα.

Η  _____ αντέχει στη ζέστη και περπατά στην έρημο.

Η  _____ βαδίζει αργά αργά και τρώει χόρτα.

Ο  _____ είναι ο καλύτερος φίλος του ανθρώπου.

Ουδέτερα ουσιαστικά
σε

-l

1. Στο τέλος της λέξης βάλε -l
<μετά>
2. Διαβάσε την λέξη και βάλε τόνο!

το παπ _

το παιδ _

το αλατ _

το πιπέρ _

το παλάτ _

το λαδ _

το παν _

το παιχνιδ _

το μολυβ _

το ψωμ _

το αγόρ _

το κοριτσ _

7 Όνομα: _____

Πάμε σήμερα να παίξουμε με Διψήφιους αριθμούς.

Να θυμάσαι: το πρώτο τους νούμερο δείχνει πόσες Δεκάδες (πόσα "δεκαράκια", πόσες φορές το 10) έχουν.

• Σου θυμίζω τα ονόματα των "στρογγυλών" διψήφιων:

<u>Δεκάδες</u>	1	← 10	→	δέκα	→	10
	2	← 20	→	είκοσι	→	10+10
	—	← 30	→	τριάντα	→	_____
	—	← 40	→	σαράντα	→	_____
	—	← 50	→	πενήντα	→	_____
	—	← 60	→	εξήντα	→	_____
	—	← 70	→	εβδομήντα	→	_____
	—	← 80	→	οχτώντα	→	_____
	—	← 90	→	ενενήντα	→	_____

• Ποιος αριθμός έχει...:

3Δ → _____	10+10+10+10 → _____
8Δ → _____	10+10+10 → _____
4Δ → _____	10+10+10+10+10+10 → _____
6Δ → _____	10+10+10+10+10+10+10+10 → _____
2Δ → _____	10+10 → _____
7Δ → _____	10+10+10+10+10+10+10 → _____
1Δ → _____	10+10+10+10+10 → _____
5Δ → _____	10+10+10+10+10+10 → _____
9Δ → _____	10+10+10+10+10+10+10+10+10 → _____

Μαθηματικά

Συμπλήρωσε τις δεκάδες και τις μονάδες.

Διαβάσεις τον αριθμό που συμπληρώνεις.

Δ	M	Δ	M	Δ	M
≡		+	≡	≡	≡
□		□		□	
Δ	M	Δ	M	Δ	M
≡	≡	≡		≡	
□		□		□	
Δ	M	Δ	M	Δ	M
≡	≡	≡			≡
□		□		□	