

Τα άρθρα

Άρθρα είναι οι μικρές λέξεις **ο, η, το, ένας, μία, ένα** που μπαίνουν μπροστά από τα ουσιαστικά.

Οριστικά άρθρα είναι τα άρθρα **ο, η, το**, που μας μιλούν για κάτι ορισμένο. **Ο** μαθητής γράφει.

Αόριστα άρθρα είναι τα άρθρα **ένας, μία, ένα**, που μας μιλούν για κάτι που δεν ξέρουμε (αόριστο). **Ένας** μαθητής γράφει.

ΑΣΚΗΣΕΙΣ

- ❖ Υπογράμμισε τα άρθρα (οριστικά και αόριστα) στις παρακάτω προτάσεις:

Έρθε ο χειμώνας. Ο αέρας, η βροχή και το χιόνι μας επισκέπτονται συχνά. Η παγωνιά και το κρύο μας βασανίζουν. Ένας λύκος πεινά. Μια αλεπού σκοτώθηκε. Ένα πουλάκι πάγωσε.

- ❖ Ξαναγράψε τις προτάσεις, αλλά με το αόριστο άρθρο:

Ο ψαράς ψαρεύει. _ Ένας ψαράς ψαρεύει.

Η φωνή ακούγεται. -

Το αυτοκίνητο περνά. -

Το παιδί παίζει. -

Ο άνθρωπος τρέχει. -

ΟΥΣΙΑΣΤΙΚΑ

Ουσιαστικά είναι οι λέξεις που μας δείχνουν πρόσωπα, ζώα, φυτά ή πράγματα.

Ασκήσουλα

1) Κυκλώνω τα ουσιαστικά στις προτάσεις:

Η μαμά πλένει τα πιάτα.

Ο Γιώργος ζωγράφισε έναν ελέφαντα.

Το κοριτσάκι παίζει με την μπάλα του.

Οι μαθητές διαβάσουν ένα βιβλίο.

Τα χελιδόνια πετούν ψηλά στον ουρανό.

Μια γάτα κυνηγάει ένα πουτάκι.

Η Ελένη κόβει μαργαρίτες από τον κήπο.

Ο γιατρός εξετάζει τα παιδιά.

Στο δάσος υπάρχουν έλατα και πεύκα.


Στην κασετίνα μου έχω μολύβια, γόμες, ζύστρα και χάρακα.

Ασκησούλες



1) Κλίω τα ουσιαστικά: ο πρόεδρος, η μαθήτριά

	<u>Ενικός Αριθμός</u>	<u>Ενικός Αριθμός</u>
οι		
γεν.		
οις.		
κλ.		
	<u>Πληθυντικός Αριθμός</u>	<u>Πληθυντικός Αριθμός</u>
οι.		
γεν.		
οις.		
κλ.		



2) Να σχηματίσεις φράσεις γράφοντας το δεύτερο ουσιαστικό στη γενική.

- οι μήνες - ο χρόνος:
- το γραφείο - ο δήμαρχος:
- οι στολές - οι ηθοποιοί:
- τα δέντρα - ο κήπος:
- οι κραυγές - οι λύκοι:
- τα πανιά - οι ανεμόμυλοι:

3) Συμπλήρωσε τα κενά των παρακάτω προτάσεων με τον ή των.

- Θαυμάζει κόπο δύο ζωγράφων.
- Για να βρει τα τηλέφωνα συμμαθητών του, έψαξε κατάλογο.
- Άκουσα ήχο από το τρακάρισμα αυτοκινήτων.
- Βλέπουμε καπνό εργοστασίων.
- Μάθαμε για αγώνα ηρώων.
- Το κλάδεμα θάμνων στον κήπο είναι δουλειά κηπουρών.

4) Συμπλήρωσε τα άρθρα στις προτάσεις:

Τα πρόσωπα _____ παιδιών είναι χαρούμενα.

Πέφτουν _____ φυλλωσιές _____ δέντρων.

_____ στέγες _____ σπιτιών είναι χιονισμένες.

Θέλω _____ μολύβι μου.

Ακούω _____ δασκάλα μου.


Όνομα: _____



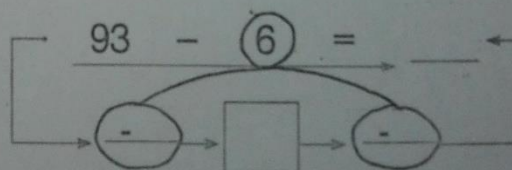
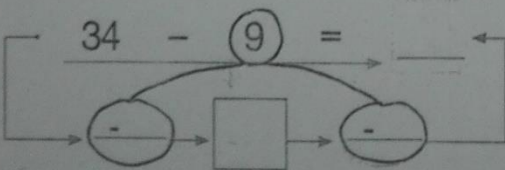
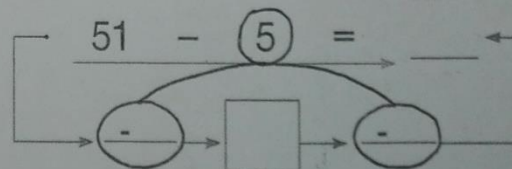
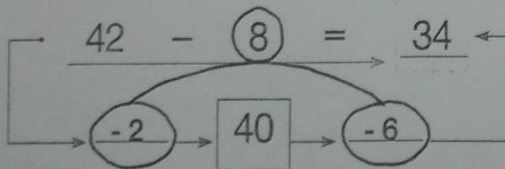
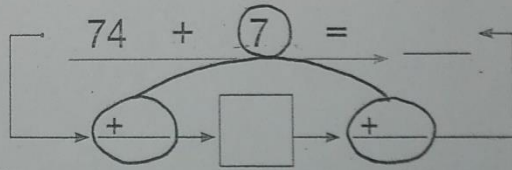
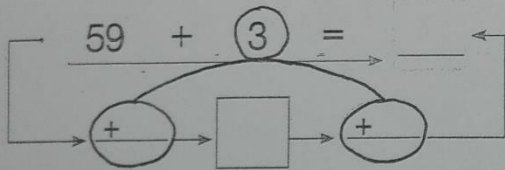
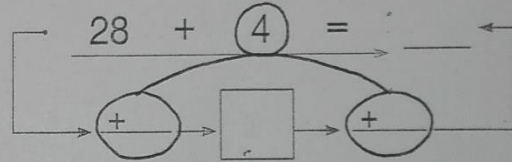
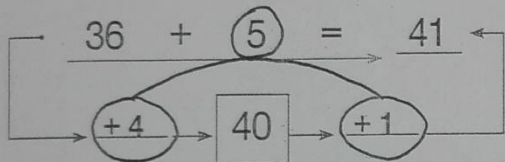
1. Αντιστοιχίζω όσα είναι ίσα.

- 30 + 20
- 40 + 30
- 20 + 10
- 30 + 30
- 50 + 40
- 10 + 10
- 20 + 20

- 70 - 40
- 90 - 20
- 60 - 10
- 80 - 20
- 50 - 30
- 80 - 40
- 100 - 10

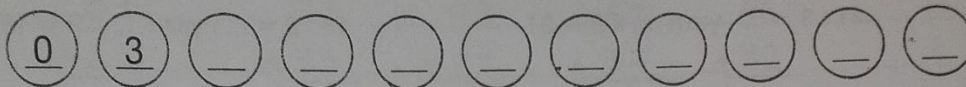


2. Βρίσκω τα αποτελέσματα σταματώντας στη δεκάδα.

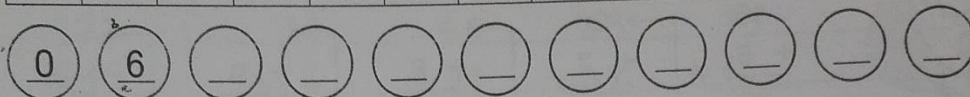


1. Χρωματίζω στην πρώτη σειρά τους αριθμούς που είναι στην προπαίδεια του 3 και στη δεύτερη αυτούς που είναι στην προπαίδεια του 6. Έπειτα τους γράφω στα κυκλάκια με τη σωστή σειρά.

0	6	12	9	3	15	16	21	30	24	27	18	19
---	---	----	---	---	----	----	----	----	----	----	----	----



0	18	42	54	36	24	28	48	60	12	30	18	6
---	----	----	----	----	----	----	----	----	----	----	----	---




2. Χρωματίζω τα κουτάκια της προπαίδειας του 7.

4	7	12	14	18	21	28	32	35	40
42	46	47	49	52	56	58	63	68	70


3. Κυκλώνω τους αριθμούς που είναι στην προπαίδεια του 9 και μετά τους γράφω με τη σωστή σειρά.

0	63	27	36	29	72	54	90	45	81	47	18	9
---	----	----	----	----	----	----	----	----	----	----	----	---



4. Υπολογίζω πόσους επιβάτες θα κατεβάσει το λεωφορείο στο τέρμα.

Αφετηρία. Ξεκίνησε με:



15	ανέβηκαν 3	έγιναν	κατέβηκαν 8	έγιναν	ανέβηκαν άλλοι τόσσοι	έγιναν	κατέβηκαν 8		κατέβηκαν οι μισοί	
									έγιναν	
	έγιναν	ανέβηκαν 20	έγιναν	κατέβηκαν 12	έγιναν	ανέβηκαν άλλοι τόσσοι	έγιναν	κατέβηκαν 10	έγιναν	ανέβηκαν 12

Τέρμα

Το λεωφορείο θα κατεβάσει _____ επιβάτες.

1) Αναλύω τους αριθμούς όπως το παράδειγμα:

$$65 = 60 + 5$$

$$32 =$$

$$44 =$$

$$87 =$$

$$71 =$$

$$56 =$$

$$69 =$$

$$93 =$$

$$13 =$$

$$28 =$$

$$88 =$$

2) Γράφω τις δεκάδες και τις μονάδες των αριθμών όπως το παράδειγμα:

$$43 \rightarrow 4\Delta \ 3\text{M}$$

$$68 \rightarrow$$

$$20 \rightarrow$$

$$39 \rightarrow$$

$$43 \rightarrow$$

$$57 \rightarrow$$

$$16 \rightarrow$$

$$92 \rightarrow$$

$$75 \rightarrow$$